



# رياض الأطفال المستوى الأول

---

## كراس الرياضيات

الفصل الدراسي الثاني لعام ٢٠١٨-٢٠١٩



اكتب الأعداد من ١ إلى ١٠. ثم استخدم أقلام التلوين الأحمر والأزرق لوضع دائرة حول الأعداد ولإنشاء نمط.

اكتب الأعداد من ١ إلى ٩. ثم استخدم أقلام التلوين البرتقالي والأخضر لوضع دائرة حول الأعداد ولإنشاء نمط.

اكتب الأعداد من ١ إلى ٨. ثم استخدم أقلام التلوين البني والبنفسجي لوضع دائرة حول الأعداد ولإنشاء نمط.

## الدرس ٦١ (تابع)



اكتب الأعداد من ١ إلى ٦. ثم استخدم لونين مختلفين لوضع دائرة حول الأعداد ولإنشاء نمط.

اكتب الأعداد من ١ إلى ٤. ثم استخدم لونين مختلفين لوضع دائرة حول الأعداد ولإنشاء نمط.

كُون العدد ١٠ باستخدام لونين من اختيارك.




ارسم نقاطاً على البطاقتين لتكوين العدد ١٠ عند جمعهما معاً.



## الدرس ٦٩

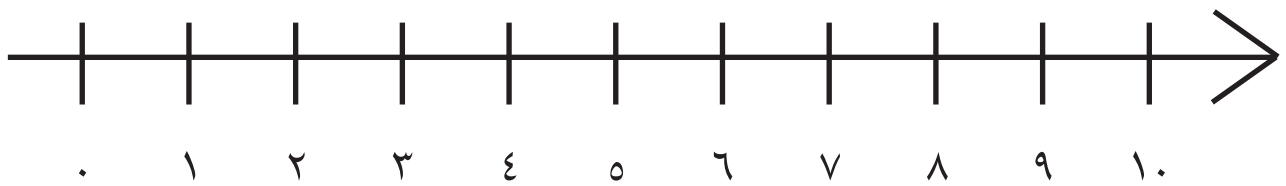
ارسم المسألة اللفظية. ارسم النهر والشجرة والشمس والجبال والصخور. وارسم الجسر إن شئت. ستقوم في  
الدرس ٧٠ برسم صور بجوار العلامات التي رسمتها في الدرس ٦٩.

استخدم إطار الخانات العشر لتكوين العدد ١٠.




استخدم إطار الخانات العشر لممارسة لعبة أكواب العدّ، وعرض العدد ١٠. ثم فكّر في طريقة أخرى لعرض العدد ١٠ وارسمها في المربعات الآتية.

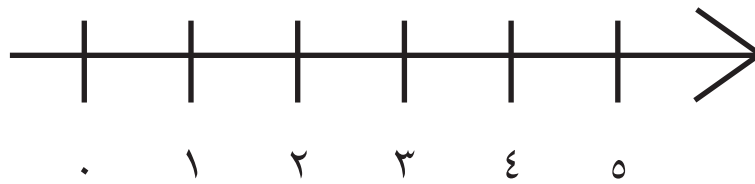

استخدم خط الأعداد التالي لحل مسائل الرياضيات.



## الدرس ٨١

اجمع الأعداد من ١ حتى ٥.

استخدم خط الأعداد التالي لحل مسائل الرياضيات.



ارسم مسائل الطرح اللفظية التي شرحها المعلم في الجزء الموضح بالأسفل. ارسم مسائل الطرح اللفظية التي ساهمت بها أثناء المشاركة.



ارسم مسائل الطرح اللفظية التي شرحها المعلم في الجزء الموضح بالأسفل. ارسم مسائل الطرح اللفظية التي ساهمت بها أثناء المشاركة.



وضح مسألة الطرح اللفظية الخاصة بك.



ارسم كهفًا ينام بداخله ثلاثة دبة. ثم ارسم الدبة وهم خارج الكهف.

املاً ١٠ مربعات كل يوم على مدار ١٠ أيام.


ضع حبة خرز على كل مربع:

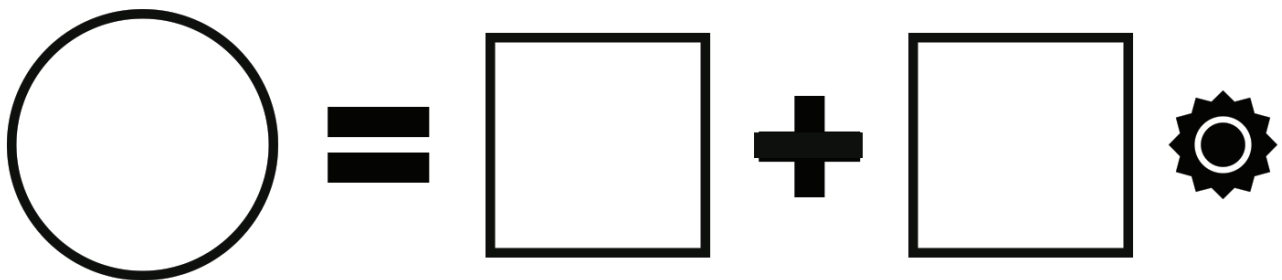
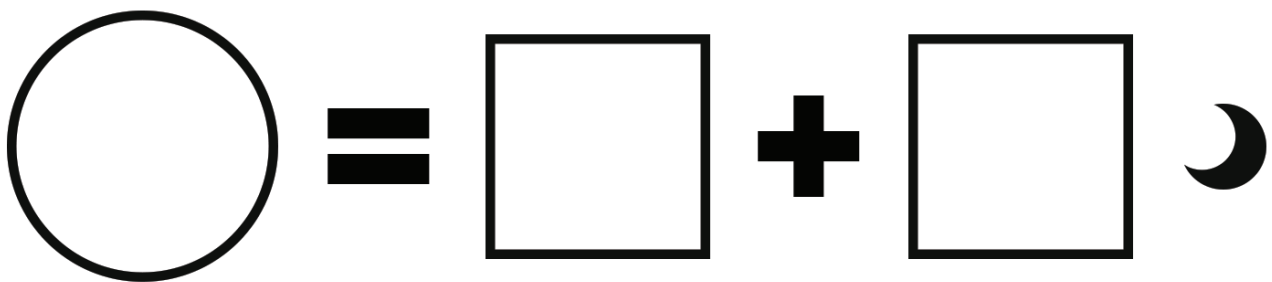
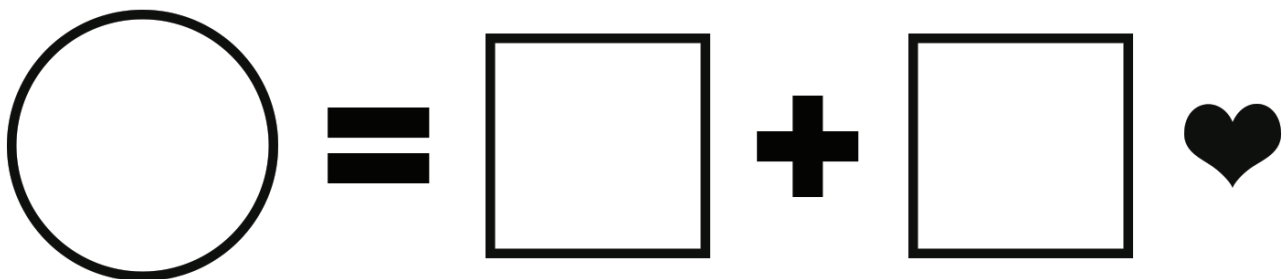
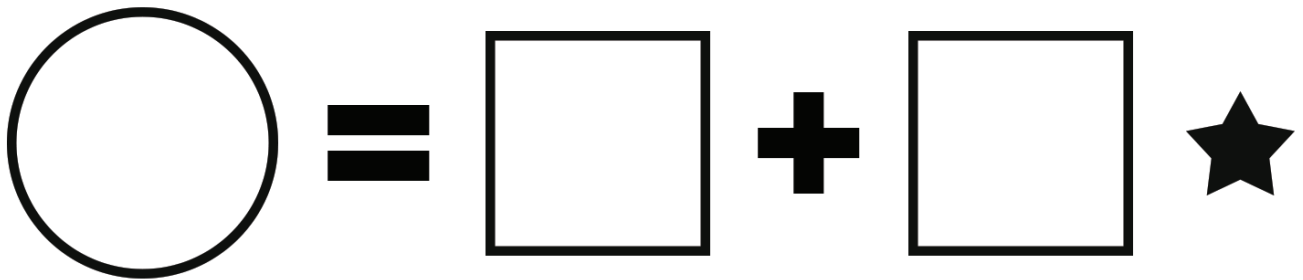
١٠.	٩	٨	٧	٦	٥	٤	٣	٢	١
٢٠.	١٩	١٨	١٧	١٦	١٥	١٤	١٣	١٢	١١
٣٠.	٢٩	٢٨	٢٧	٢٦	٢٥	٢٤	٢٣	٢٢	٢١
٤٠.	٣٩	٣٨	٣٧	٣٦	٣٥	٣٤	٣٣	٣٢	٣١
٥٠.	٤٩	٤٨	٤٧	٤٦	٤٥	٤٤	٤٣	٤٢	٤١
٦٠.	٥٩	٥٨	٥٧	٥٦	٥٥	٥٤	٥٣	٥٢	٥١
٧٠.	٦٩	٦٨	٦٧	٦٦	٦٥	٦٤	٦٣	٦٢	٦١
٨٠.	٧٩	٧٨	٧٧	٧٦	٧٥	٧٤	٧٣	٧٢	٧١
٩٠.	٨٩	٨٨	٨٧	٨٦	٨٥	٨٤	٨٣	٨٢	٨١
١٠٠.	٩٩	٩٨	٩٧	٩٦	٩٥	٩٤	٩٣	٩٢	٩١

ارسم مسألة الجمع اللفظية التي تُفضلها والتي قمت بتمثيلها مع زملائك في الفصل.



















اعرض طُرُقًا مختلفة لتكوين العدد ٥. ارسـم صورًا أو اكتب أعدادًا.

اعرض طرقاً مختلفة لتكوين العدد الذي أعطاه لك المعلم. ارسـم صوراً أو اكتب أعداداً.

ارمي حجري النرد، اكتب عدد النقاط في المربعات الفارغة. واكتب ناتج المسألة في الدوائر الفارغة.



























العب "جمع النقاط". اكتب الأعداد في المربعات الفارغة. واكتب ناتج المسألة في الدوائر الفارغة.





















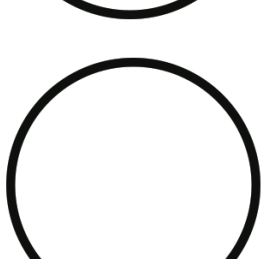



	=		+	
	=		+	
	=		+	
	=		+	
	=		+	
	=		+	

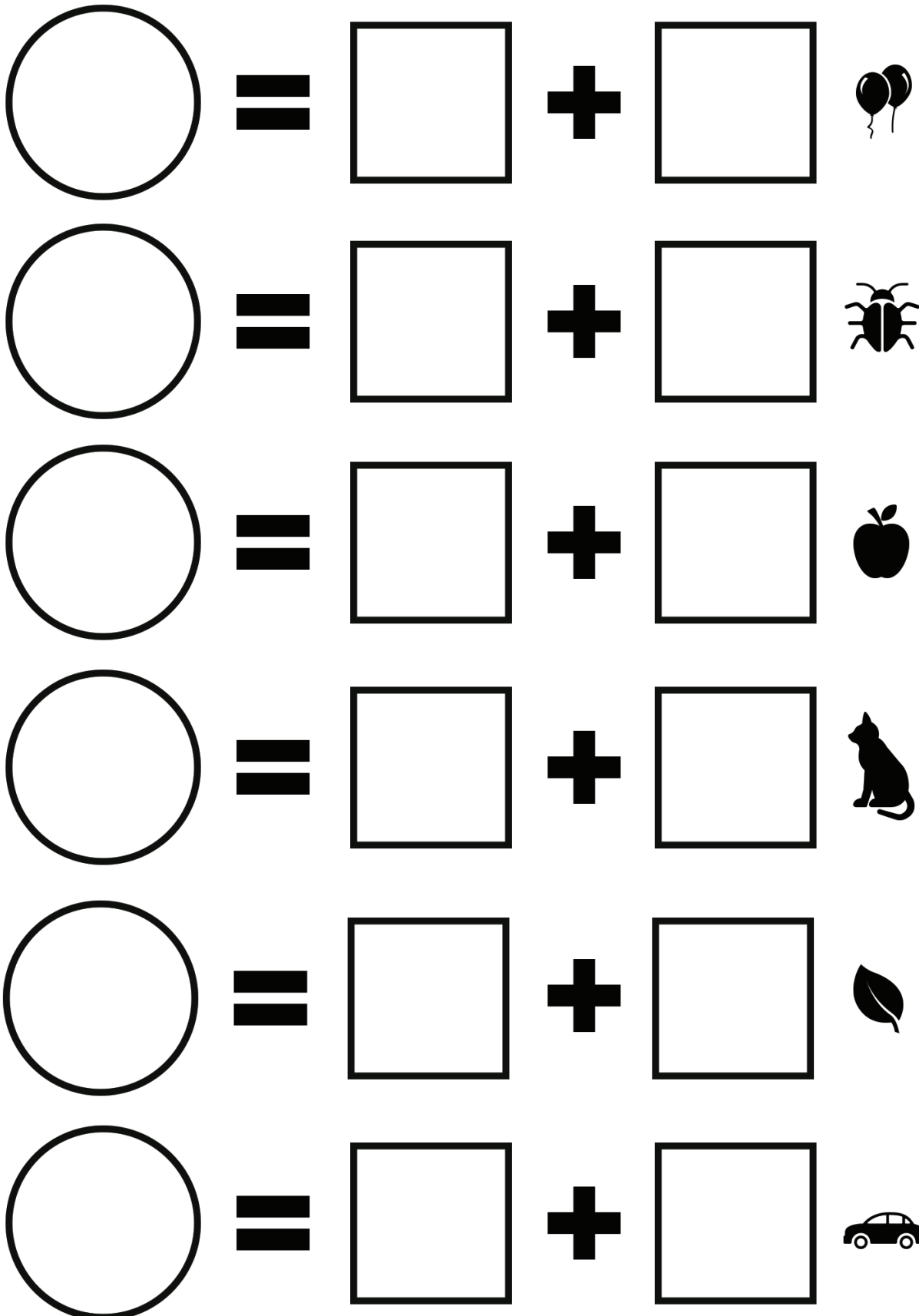


العب "جمع النقاط". اكتب الأعداد في المربعات الفارغة. واكتب ناتج المسألة في الدوائر الفارغة. وقارن إجابتك مع إجابة زميلك. ثم ظلّ الدائرة التي تحتوي على العدد الأكبر.











	=		+		
	=		+		
	=		+		
	=		+		
	=		+		
	=		+		

العب "جمع النقاط". اكتب الأعداد في المربعات الفارغة. واكتب ناتج المسألة في الدوائر الفارغة. وقارن إجابتك بإجابة زميلك. ثم ظلل الدائرة التي تحتوي على العدد الأكبر.

	=		+		
	=		+		
	=		+		
	=		+		
	=		+		
	=		+		



العب "جمع النقاط". اكتب المسألة باستخدام علامة الجمع (+) وعلامة يساوي (=). وقارن إجابتك بإجابة زميلك. ثم ضع دائرة حول العدد الأكبر.

ارسم مسألة الطرح اللفظية التي تُفضلها والتي قمت بتمثيلها مع زملائك في الفصل.

اكتب العدد الذي يقوله المعلم. ثم قم بحلّ المسألة مع كتابة الناتج في الدوائر الفارغة.

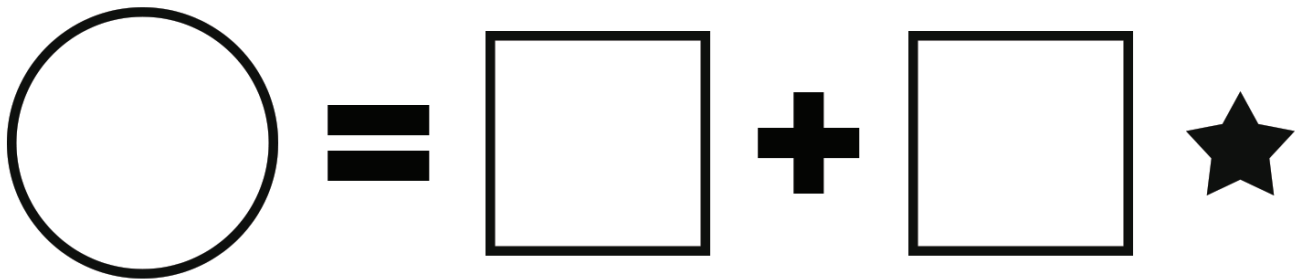
$$\bigcirc = \square + \square \star$$

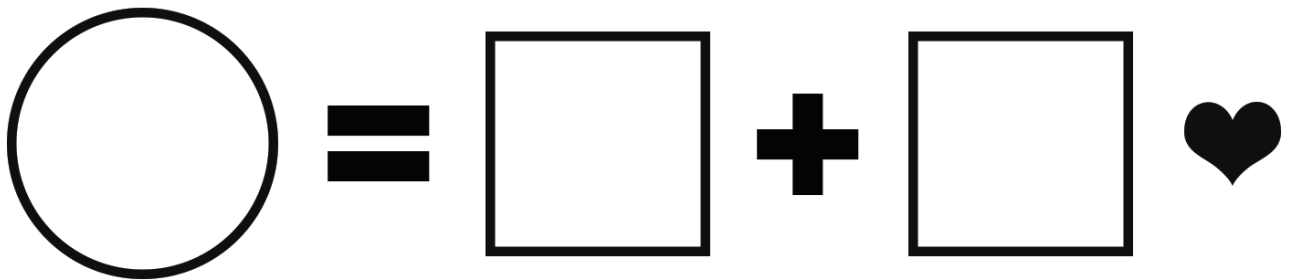
$$\bigcirc = \square + \square \heartsuit$$

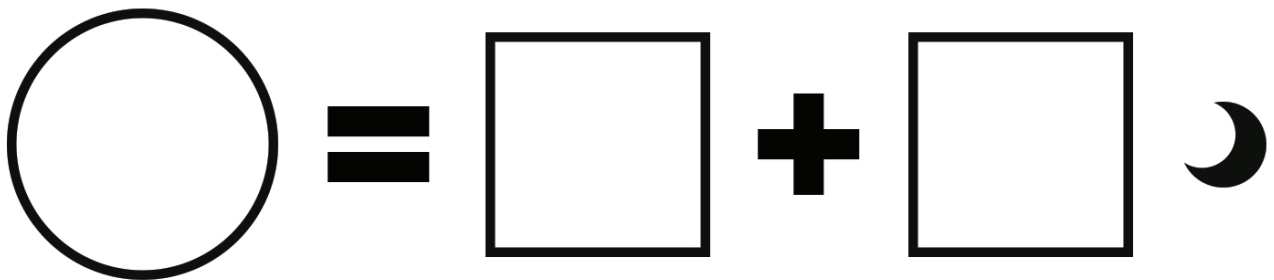
$$\bigcirc = \square + \square \smile$$

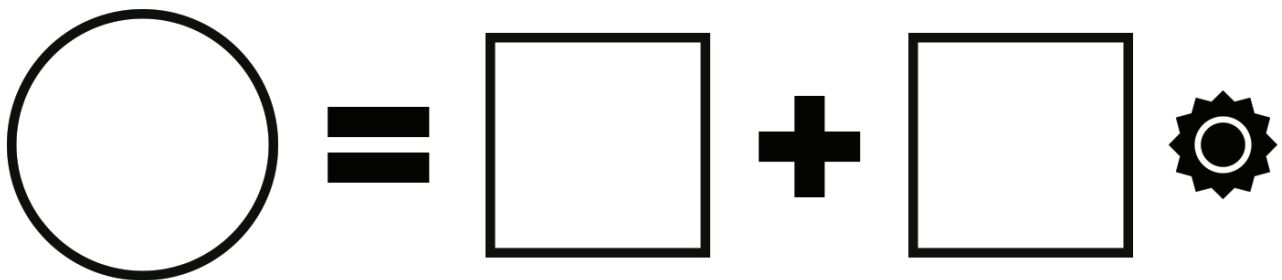
$$\bigcirc = \square + \square \odot$$

حرّك قرص النقاط، ثم عدّها. واكتب عدد هذه النقاط في المربع الأول. حرّك قرص النقاط مرة أخرى. ثم اكتب عدد النقاط في المربع الثاني. قم بعملية الطرح الموضحة في المسألة واكتب الناتج في الدوائر الفارغة.



































حرّك قرص النقاط، ثم عدّها. واكتب عدد هذه النقاط في المربع الأول. حرّك قرص النقاط مرة أخرى. ثم اكتب عدد النقاط في المربع الثاني. قم بعملية الطرح الموضحة في المسألة واكتب الناتج في الدوائر الفارغة.


	=		-		
	=		-		
	=		-		
	=		-		
	=		-		
	=		-		




العب "كهف الأعداد"، ثم اكتب ثلاث مسائل مختلفة.


$$\bigcirc = \square - \square$$


$$\bigcirc = \square - \square$$


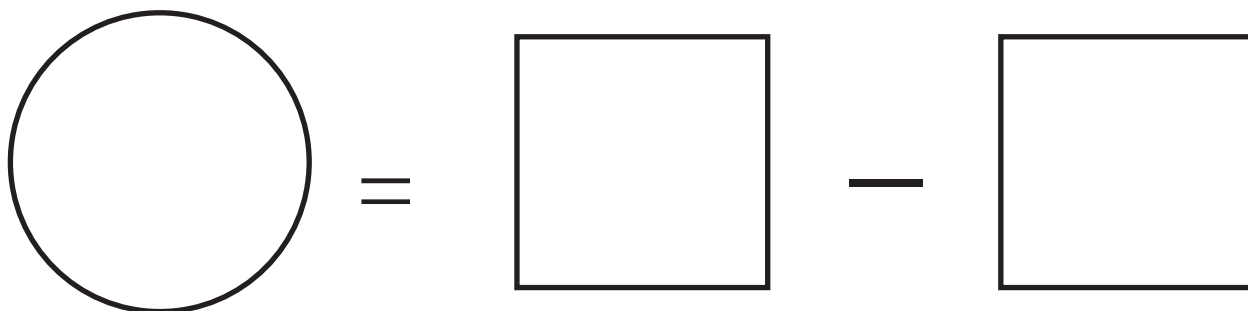
$$\bigcirc = \square - \square$$


$$\bigcirc = \square - \square$$


اكتب مسألة الجمع التي تُعبر عن شجرة المجموعة الخاصة بك. ثم ارسم صورة للشجرة.



اكتب مسألة الطرح عن شجرة الخوخ. ثم ارسم صورة لهذه الشجرة.



ارسم صورة لنفسك وأنت تحل بعض مسائل الرياضيات.

































Handwriting practice lines consisting of multiple sets of horizontal dashed lines in blue, pink, and green colors.


























Handwriting practice lines consisting of four sets of horizontal dashed lines in blue, pink, and green colors.







